

II skyrius. Senovės Egiptas

1. Egiptas – Nilo dovana

1 Mokantis senovės istorijos reikia išmanyti ir tas sąvokas, kurių šiais laikais nebevartojame arba vartojame labai retai. 3 iš šių 6 sąvokų nėra tiesiogiai susijusios su senovės Egiptu, išbraukite jas. Likusias 3 sąvokas paaiškinkite savais žodžiais.

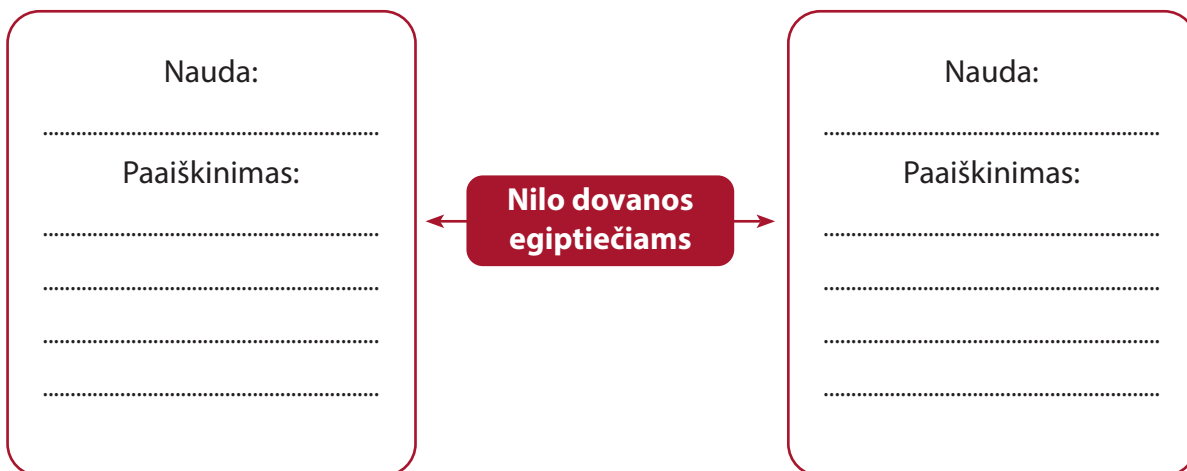
Už kiekvieną teisingai atrinktą sąvoką skiriama po 1 tašką. Už kiekvieną teisingai savais žodžiais paaiškintą sąvoką skiriama po 1 tašką. Didžiausias taškų skaičius už 1-ą užduotį – 6 taškai.

Šadufas	Biblija	Irigacija
Dantiraštis	Papirusas	Dekalogas

-
-
-

2 Nilo upės vandenys nešė gyvybę egiptiečiams. Svarbiausios šios upės teikiamos dovanos buvo dvi. Nurodykite abi ir paaiškinkite, kuo jos buvo naudingos.

Už teisingai nurodytą naudą skiriamas 1 taškas, už teisingą paaiškinimą skiriamas 1 taškas. Didžiausias taškų skaičius už 2-ą užduotį – 4 taškai.



3 Egiptiečiai, stebėdami dangaus kūnus, sukūrė Saulės kalendorių. Pakeistą ir patobulintą kalendorių naudojame ir šiandien. Remdamiesi savo žiniomis, vadovėliu ir toliau pateikta iliustracija atsakykite į klausimus, atlikite užduotis.

Didžiausias taškų skaičius už 3-ią užduotį – 10 taškų.

1. Kiek dienų pagal senovės egiptiečių sukurtą Saulės kalendorių sudarė metus? Kiek dienų sudaro metus pagal mūsų laikų kalendorių?

..... (2 tšk.)

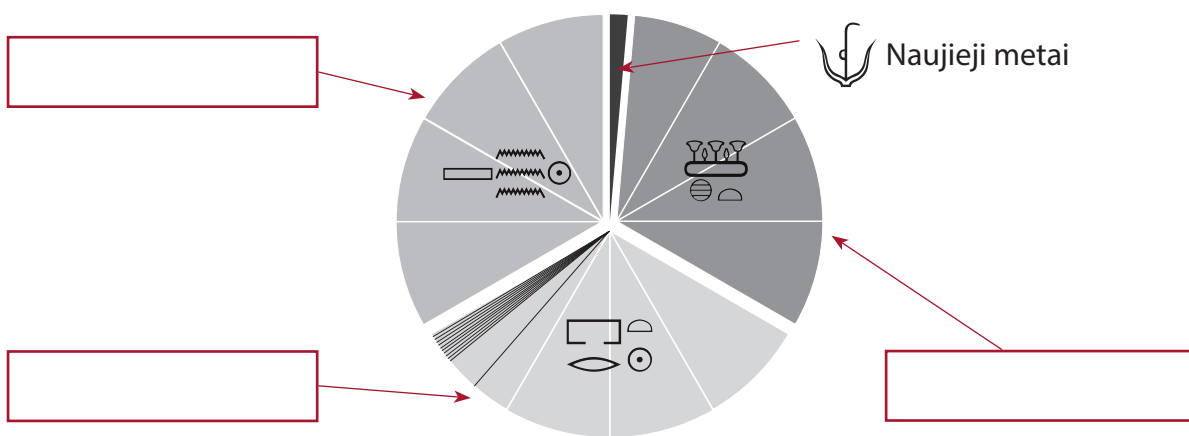
2. Pagal egiptiečių sukurtą Saulės kalendorių metus sudarė 12 mėnesių, o kiek dienų sudarė mėnesį? Kiek dienų sudaro mėnesį pagal mūsų laikų kalendorių?

..... (2 tšk.)

3. Kalendoriaus langeliuose parašykite pavadinimus metų laikų, į kuriuos buvo padalyti metai pagal senovės egiptiečių Saulės kalendorių. Paaiškinkite, kuo skiriasi senovės egiptiečių ir mūsų metų laikai.

.....

 (4 tšk.)



4. Pasvarstykite, kodėl egiptiečiai stebėjo dangaus kūnus ir kam jiems reikėjo kalendoriaus.

.....
 (2 tšk.)

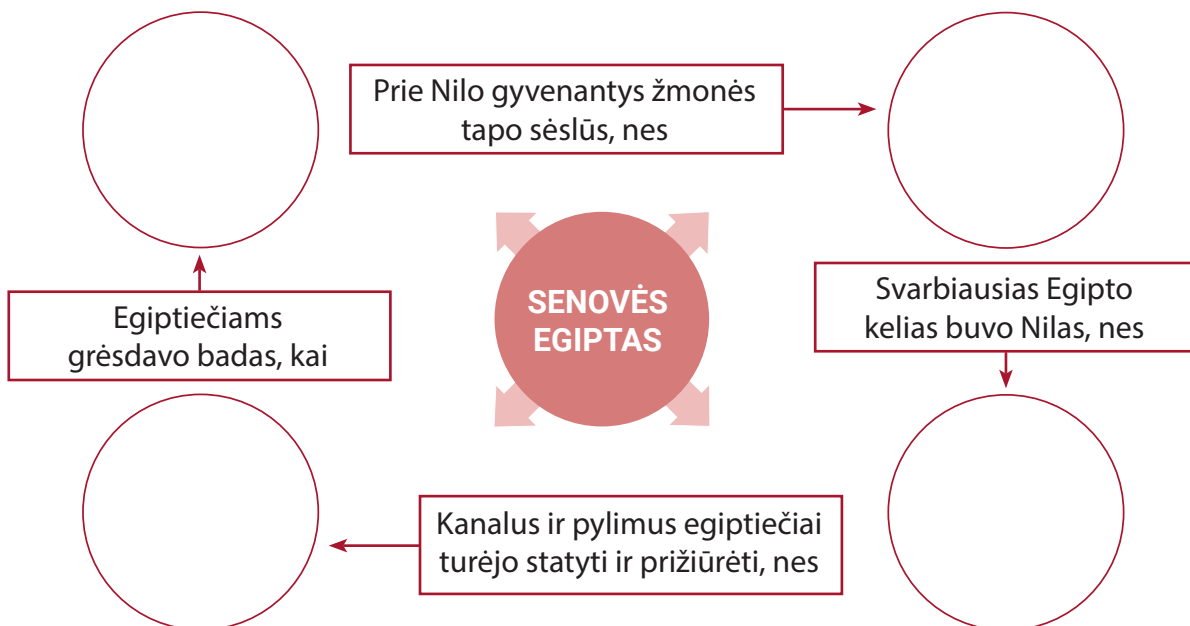
- 4** Egiptas iš mažų kaimelių išaugo į didžiulę civilizaciją, kuriai buvo būdingi tam tikri požymiai. Remdamiesi savo žiniomis ir vadovėliu paaiškinkite, kas lėmė šiuos egiptiečių civilizacijos požymius.

Už kiekvieną teisingą atsakymą skiriama po 1 tašką. Didžiausias taškų skaičius už 4-ą užduotį – 5 taškai.

1. Atsirado didesnių gyvenviečių ir jų centrų, nes
 (1 tšk.)
2. Bendruomenėms vadovavo vadai, nes
 (1 tšk.)
3. Nilo deltoje, jo žemupyje, susikūrė Žemutinis Egiptas, o į pietus nuo jo – Aukštutinis Egiptas, nes
 (1 tšk.)
4. Apie 3100 m. pr. Kr. Egiptą į vieningą valstybę suvienijo
 (1 tšk.)
5. Palankias sąlygas civilizacijai susikurti sudarė
 (1 tšk.)

5 Apie Egiptą jau žinote nemažai dalykų, o kiek dar sužinosite! Remdamiesi savo žiniomis ir vadovėliu užpildykite minčių apie senovės Egiptą schemą.

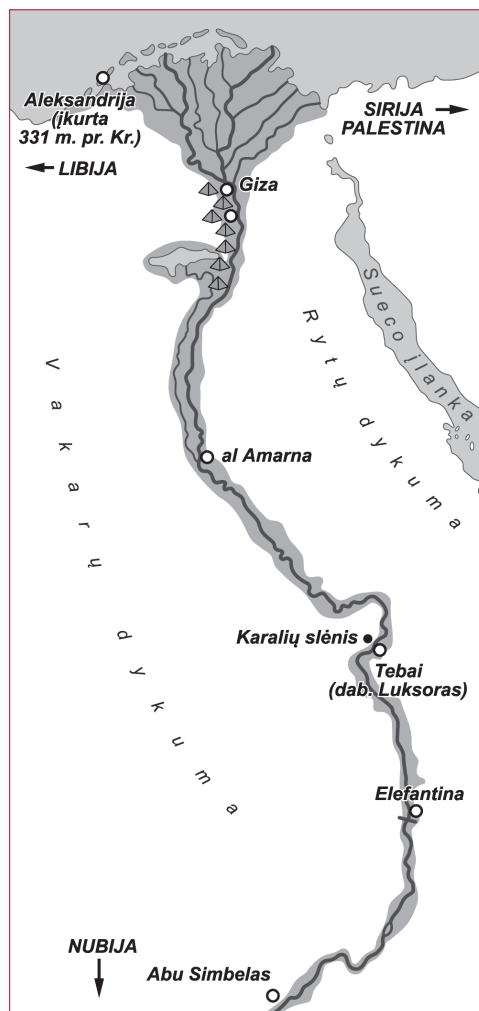
Už kiekvieną teisingą įrašą skiriama po 1 tašką. Didžiausias taškų skaičius už 5-q užduotį – 4 taškai.



6 Į senovės Egipto žemėlapiį įrašykite nurodytus duomenis.

Didžiausias taškų skaičius už 6-q užduotį – 5 taškai.

- Svarbiausios matomos upės pavadinimas (1 tšk.).
- Jūros, prie kurios įsikūrė Egipto valstybė, pavadinimas (1 tšk.).
- Vieta, kur buvo Aukštutinis Egiptas (įrašykite pavadinimą) (1 tšk.).
- Vieta, kur buvo Žemutinis Egiptas (įrašykite pavadinimą) (1 tšk.).
- Vieta, kur buvo įkurtas Memfio miestas (įrašykite pavadinimą) (1 tšk.).



KAIP MAN SEKĖSI?

Šioje temoje iš viso surinkau tšk. iš 34 galimų.

Įsivertinkite: pažymėkite (pvz., X ženklų) atsakymą, kuris geriausiai atitinka jūsų šios temos supratimą.

	TAIP	NE
Savais žodžiais galiu įvertinti, kuo Nilas buvo naudingas senovės egiptiečiams.		
Paiškinu egiptiečių sukurtą Saulės kalendorių ir jo naudą.		
Nurodau ir apibūdinu esminius Egipto valstybės ir visuomenės pokyčius civilizacijos istorijos pradžioje.		

Trys man geriausiai įsiminę šios temos dalykai:

1.
2.
3.

Nesupratau / Nevisiškai supratau ir norėčiau išsiaiškinti:

.....

2. Raštas ir faraonas: Egipto valstybės pagrindai

- 1** Eiti raštininko pareigas senovės Egipte buvo nelengva. Juk reikėjo mokėti hieroglifus ne tik skaityti, bet ir užrašyti. Pamėginkite užrašyti hieroglifus pagal pateiktą pavyzdį.

Už daugiau nei pusę nupieštų visų pateiktų hieroglifų skiriamas 1 taškas. Už visus nupieštus hieroglifus skiriami 2 taškai.

