




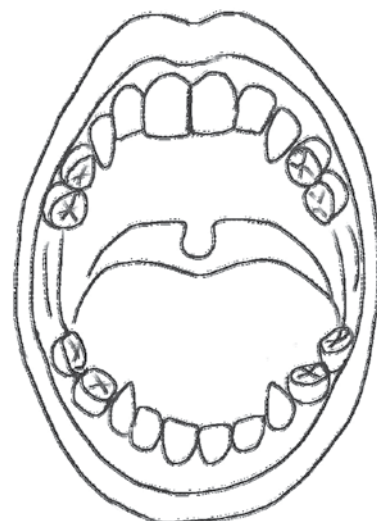
# 5. SAUGOKITE DANTIS



1  Žaliai apibrauk daiktus, kurie padeda prižiūrėti dantis, raudonai – kurie dantims kenkia, o mėlynai – kurie yra naudingi, tačiau gali pakenkti, jei tinkamai neprižiūrėsi savo dantų.



2  Pirmieji vaikų dantys vadinami pieniniais. Apie šeštuosius metus jie pradeda kristi ir vietoj jų išdygsta nuolatiniai dantys.

- Piešinyje išbrauk tuos dantis, kurie tau iškrito.
- Iltiniai dantys patys ilgiausi. Juos nuspalvink raudonai.
  - Kandžiai – priekiniai dantys, kuriais atkandame maisto. Juos nuspalvink mėlynai.
  - Krūminiais dantimis maistą sukramtome. Juos nuspalvink žaliai.





3   Atlik tyrimą. Parašyk, po kiek dantų yra iškritę tavo klasės mokiniams.

25							
24							
23							
22							
21							
20							
19							
18							
17							
16							
15							
14							
13							
12							
11							
10							
9							
8							
7							
6							
5							
4							
3							
2							
1							
	1	2	3	4	5	6	7

Dantų skaičius

- Keliems vaikams iškritę daugiausia dantų?  Kiek dantų?
- Keliems vaikams iškritę mažiausiai dantų?  Kiek dantų?

# 12. PAS DANTŲ GYDYTOJĄ

1   Perskaityk slaptaraštį ir sužinasi, kokią knygą skaito Kariesas ir Ėduonis.



4	10	1	16	5	14	5	10
11	15	3	5	6	14		




2	1	8	12	13	6	14	

9	1	11	7	1	9	12	5	11	

## SLAPTARAŠTIS

A	D	E	G	I	K	L	N	P	R	S	T	U	Ū	V	Ž
1	2	3	4	5	6	7	8	9	10	11	12	13	14	15	16

2   Kaip manai, kas toje knygoje parašyta?


3    Perskaityk, kas enciklopedijoje parašyta apie dantų skaičių. Įrašyk skaičius į reikiamas vietas.

## DANTYS SKAIČIAIS

Jaunesni nei ... metų vaikai, dar turintys pirmuosius pieninius dantis, kramto ... dantukų. Kai jie iškrinta ir išdygsta nuolatiniai dantys, turime ... dantis. Protiniai dantys ima kaltis tik vėliau, mums esant maždaug ... metų. Jų gali būti ... .

Iš knygos „Mūsų kūnas“



17

6

28

4

20

4   Parašyk, ką matai paveikslėliuose.




*Ką?*

# 9. PRIDEDAME IR ATIMAME VIENETUS

1 Suskaičiuok.

$23 + 1 =$	$46 + 2 =$	$65 + 3 =$
$23 - 1 =$	$46 - 2 =$	$65 - 3 =$
$+ \begin{array}{r} 55 \\ 4 \end{array}$	$- \begin{array}{r} 55 \\ 4 \end{array}$	$+ \begin{array}{r} 37 \\ 2 \end{array}$
$- \begin{array}{r} 55 \\ 4 \end{array}$	$- \begin{array}{r} 37 \\ 2 \end{array}$	$+ \begin{array}{r} 88 \\ 1 \end{array}$
$- \begin{array}{r} 55 \\ 4 \end{array}$	$- \begin{array}{r} 37 \\ 2 \end{array}$	$- \begin{array}{r} 88 \\ 1 \end{array}$

2 Parašyk, iš kiek dešimčių ir kiek vienetų sudaryti skaičiai.

	Dešimtys	Vienetai		Dešimtys	Vienetai
24	2	4	68		
30			99		
45			8		
59			72		
10			11		

3 Iš kurių trikampių sudaryti keturkampiai? Nuspalvink juos atitinkamomis spalvomis.

Geltonai

Mėlynai

Raudonai

# 10. PRIDEDAME IR ATIMAME VIENETUS

1 Suskaičiuok, po kiek kramtomosios gumos gabalėlių liko kiekvienam vaikui, kai visi jie sukramtė po 3 gabalėlius.



Vilius turėjo 38 gabalėlius.



Eglė turėjo 29 gabalėlius.



Simona turėjo 36 gabalėlius.

2 Apskaičiuok sumas.

Pirmasis dėmuo	23	31	44	52	65	72	81	94
Antrasis dėmuo	6	7	2	5	3	4	8	5
Suma								

3 Sudaryk diagramą.

