



# 6. TALKA



skruzdėlė



skruzdėlynas

Gale lauko  
katilėlis verda.



1 Pažaisk žodžiais. Pakeisk juos pagal pavyzdį.

*skruzdėlė - skruzdėlynas*



*pušis -*



*egle -*



*knyga -*



2 Pabaik sakinius. Parašyk juos.

Pikta kaip ...

Bailus kaip ...

Laisvas kaip ...




3 Sugalvok vaikams vardus ir parašyk, kokius darbus jie dirbo.

Kas? → Ką veikė? → Ką?




4 Pakeisk žodžius taip, kad jie atsakytų į klausimą Ką veikė?

*Ką veikia? Ką veiki?*

*tvarko - tvarkė*


*dirba -*

*kasa -*

*puvena -*

*laisto -*


# 7. IŠ KIEK ATIMTI?

1  Ūkininkas darbininkams davė po maišelį agurkų sėklų. Parašyk, po kiek sėklų kiekviename maišelyje buvo iš pradžių.



Pasėjo 36 sėklas.  
Liko 41 sėkla.

$$\square - 36 = 41$$

Pasėjo 23 sėklas.  
Liko 65 sėklos.

$$\square - 23 = 65$$

Pasėjo 42 sėklas.  
Liko 37 sėklos.

$$\square - 42 = 37$$


Pasėjo 54 sėklas.  
Liko 22 sėklos.

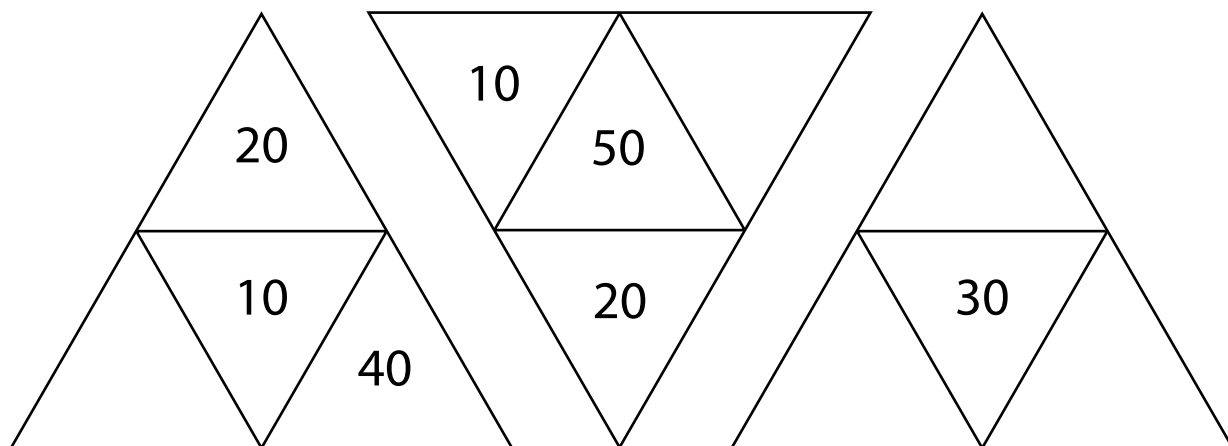
$$\square - 54 = 22$$

2  Parašyk dešimtis, kurios sudaro šimtą.


$100 = 50 + 50 \quad 100 = \square + \square \quad 100 = \square + \square$

$100 = \square + \square \quad 100 = \square + \square \quad 100 = \square + \square$

3  Trikampiuose parašyk tokius skaičius, kad kiekvieno didelio trikampio skaičių suma būtų 100.



# 8. DIDINAME ARBA MAŽINAME SKAIČIŲ KELIAIS VIENETAIS

1  Marija ir Kristina augino agurkų, pomidorų ir paprikų daigus. Po kiek daigų išaugino Kristina?



Marija 57  
Kristina 16 mažiau

Sprendimas



Marija 62  
Kristina 25 daugiau


Sprendimas




Marija 38  
Kristina 13 mažiau

Sprendimas


2  Nupiešk laikrodžiams rodykles.




6 val.



2 val.



11 val.



8 val.

3  Nupiešk taip pat.

